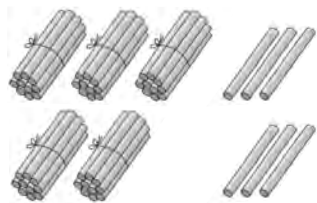


第4单元检测卷

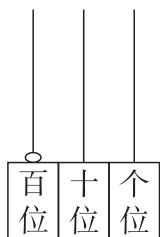
(时间:45 分钟 满分:100 分)

一、填一填。(每空 1 分,共 27 分)

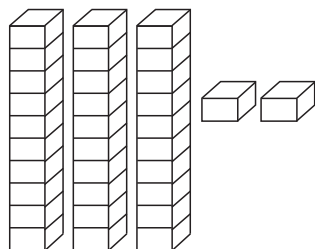
1. 看图写一写,读一读。



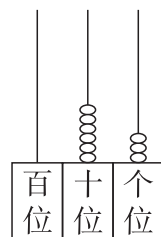
写作:____
读作:_____



写作:____
读作:_____



写作:____
读作:_____



写作:____
读作:_____

2. 写出 67 后面连续的 5 个数:()、()、()、()、()。

3. 78 是由()个十和()个一组成的。

4. 89 前面一个数是(),后面一个数是()。

5. 75 的 7 在()位上,表示 7 个(),5 在()位上,表示 5 个()。

6. 一个两位数,个位上的数是 5,十位比个位上的数多 4,这个两位数是()。

7. 有 42 个桃,每 10 个装一盘,最多能装满()盘,还多()个。

8. 最大的两位数是(),最小的两位数是(),它们相差()。

二、连一连。(共 10 分)

1. (5 分)




比60大

比60小



2. (5 分)把得数相等的算式用线连起来。

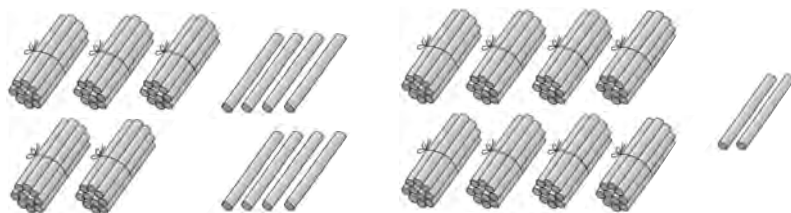


三、计算乐园。(共 28 分)

1. (16 分)算一算。

65-60=	32-2=	43-3=	90+9=
98-90=	87-80=	7+60=	58-8=
70+9=	93-3=	68-60=	80+5=
5+80=	1+90=	4+30=	73-70=

2. (12 分)看图列式计算。



$\square + \square = \square$	$\square + \square = \square$
$\square - \square = \square$	$\square - \square = \square$
$\square - \square = \square$	$\square - \square = \square$

四、解决问题。(共 35 分)

1. (10 分)在合适的答案下面画“√”。



(1) 舞蹈队有多少人?

78 人	89 人	80 人

(2) 田径队有多少人?

78 人	98 人	26 人

2. 一块地里有 67 个萝卜,我拔了一些后,地里还剩 7 个。(8 分)

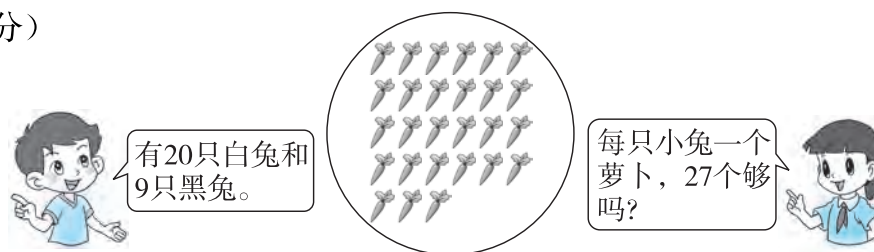


$$\square \bigcirc \square = \square (\quad)$$

3. 3 月 12 日是植树节,学校在校园里种的树活了 20 棵,有 6 棵没活,请问一共种了多少棵树?(8 分)

$$\square \bigcirc \square = \square (\quad)$$

4. (9 分)

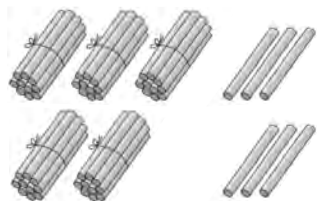


第4单元检测卷

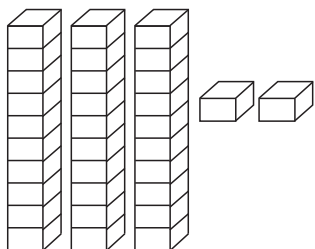
(时间:45 分钟 满分:100 分)

一、填一填。(每空 1 分,共 27 分)

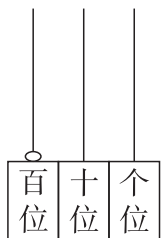
1. 看图写一写,读一读。



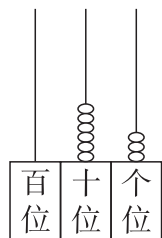
写作:56
读作:五十六



写作:32
读作:三十二



写作:100
读作:一百



写作:63
读作:六十三

2. 写出 67 后面连续的 5 个数:(68)、(69)、(70)、(71)、(72)。

3. 78 是由(7)个十和(8)个一组成的。

4. 89 前面一个数是(88),后面一个数是(90)。

5. 75 的 7 在(十)位上,表示 7 个(十),5 在(个)位上,表示 5 个(一)。

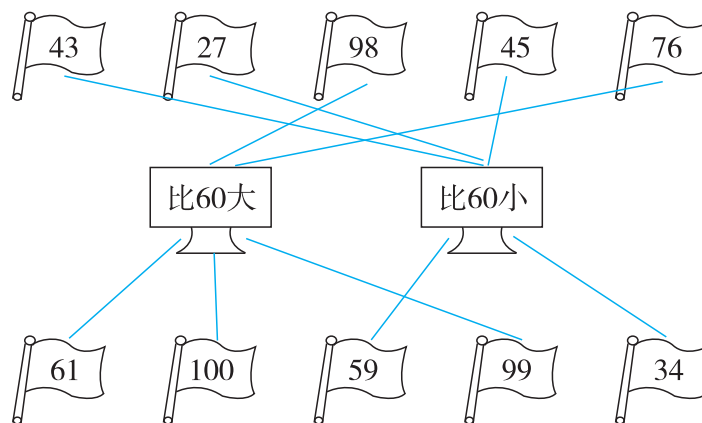
6. 一个两位数,个位上的数是 5,十位比个位上的数多 4,这个两位数是(95)。

7. 有 42 个桃,每 10 个装一盘,最多能装满(4)盘,还多(2)个。

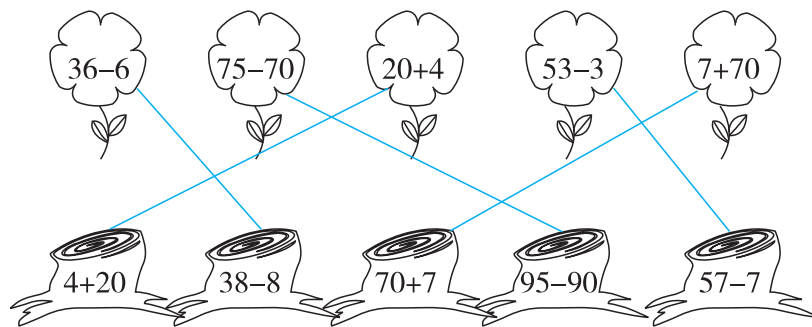
8. 最大的两位数是(99),最小的两位数是(10),它们相差(89)。

二、连一连。(共 10 分)

1. (5 分)



2. (5 分)把得数相等的算式用线连起来。

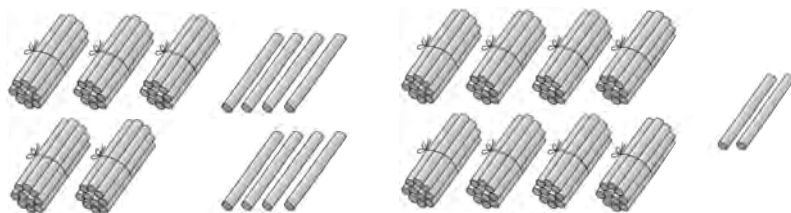


三、计算乐园。(共 28 分)

1. (16 分)算一算。

$65-60=5$	$32-2=30$	$43-3=40$	$90+9=99$
$98-90=8$	$87-80=7$	$7+60=67$	$58-8=50$
$70+9=79$	$93-3=90$	$68-60=8$	$80+5=85$
$5+80=85$	$1+90=91$	$4+30=34$	$73-70=3$

2. (12 分)看图列式计算。



$50+8=58$	$80+2=82$
$58-8=50$	$82-80=2$
$58-50=8$	$82-2=80$

四、解决问题。(共 35 分)

1. (10 分)在合适的答案下面画“√”。



(1) 舞蹈队有多少人?

78 人	89 人	80 人
	✓	

(2) 田径队有多少人?

78 人	98 人	26 人
		✓

2. 一块地里有 67 个萝卜,我拔了一些后,地里还剩 7 个。(8 分)

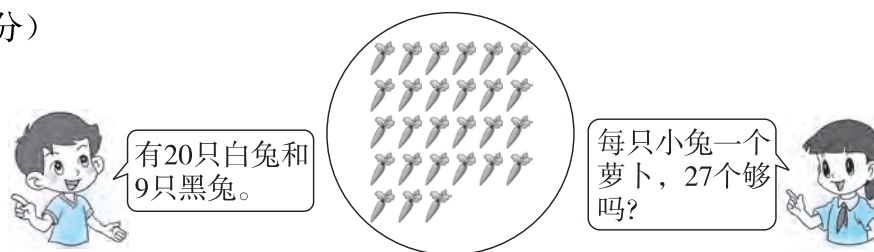


$$67 - 7 = 60 \text{ (个)}$$

3. 3 月 12 日是植树节,学校在校园里种的树活了 20 棵,有 6 棵没活,请问一共种了多少棵树?(8 分)

$$20 + 6 = 26 \text{ (棵)}$$

4. (9 分)



$$20 + 9 = 29 \text{ (只)} \quad 29 > 27 \quad \text{不够}$$